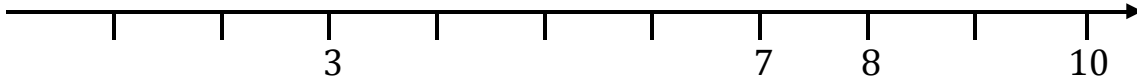
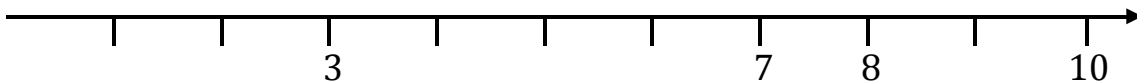


## DOVE STA ... SULLA LINEA DEI NUMERI ?

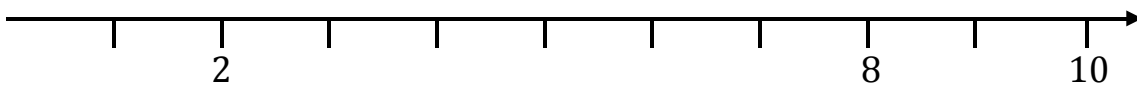
Dov'è il numero **4** ?



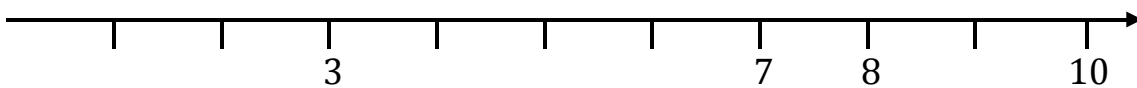
Dov'è il numero **6** ?



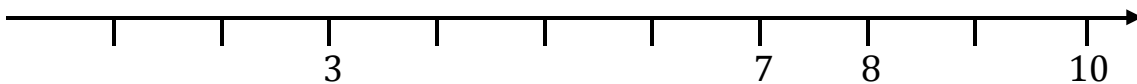
Dov'è il numero **5** ?



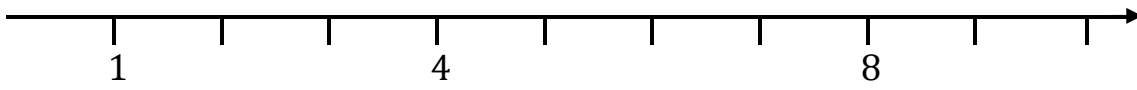
Dov'è il numero **9** ?



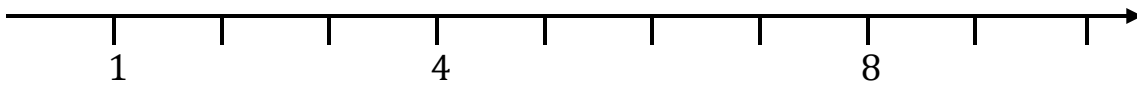
Dov'è il numero **1** ?



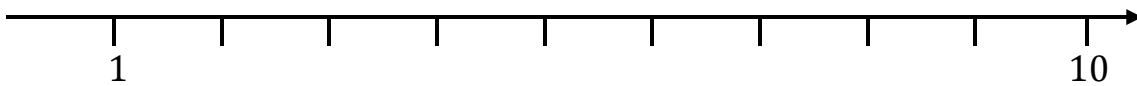
**Dov'è il numero 6 ?**



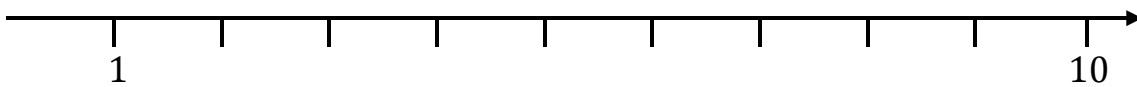
**Dov'è il numero 7 ?**



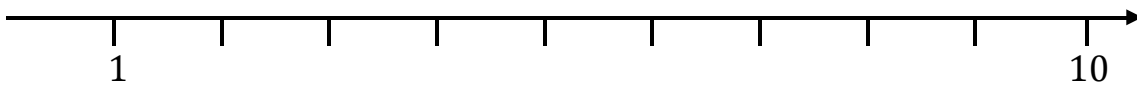
**Dov'è il numero 5 ?**



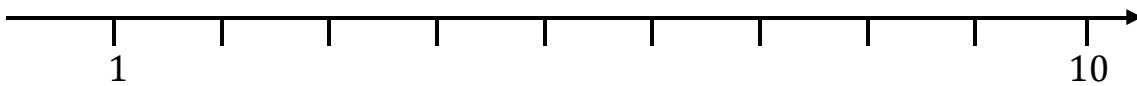
**Dov'è il numero 8 ?**



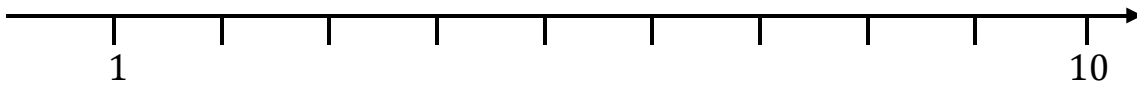
**Dov'è il numero 2?**



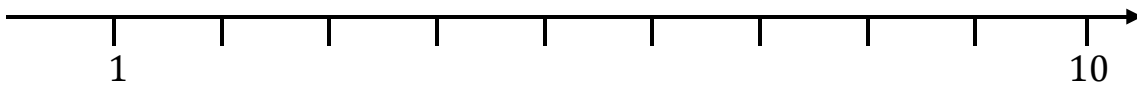
**Dov'è il numero 7 ?**



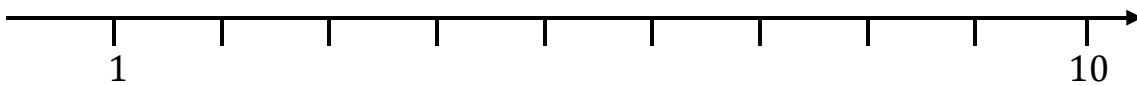
**Dov'è il numero 4 ?**



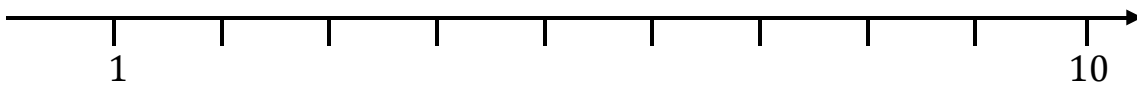
**Dov'è il numero 3 ?**



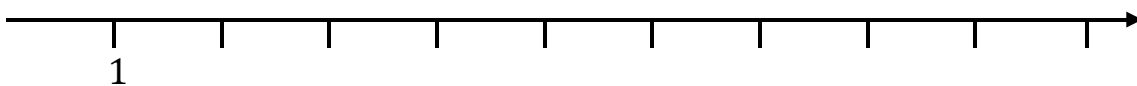
**Dov'è il numero 9 ?**



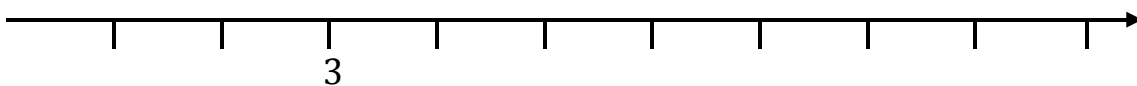
**Dov'è il numero 5 ?**




**Dov'è il numero 8 ?**



**Dov'è il numero 7 ?**



## COMPLETA LA TABELLA

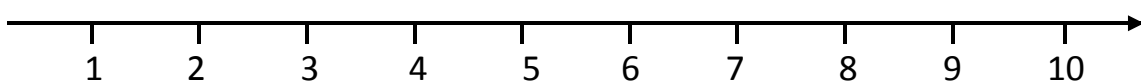


PRIMA (precedente)		DOPO (successivo)
	8	
	1	
	6	
	3	
	9	
	5	
	2	
	7	
	4	


**USA LA LINEA DEI NUMERI PER TROVARE IL NUMERO CHE VIENE PRIMA (PRECEDENTE) E IL NUMERO CHE VIENE DOPO (SUCCESSIVO) A QUELLO SCRITTO IN MEZZO - PUOI AIUTARTI GUARDANDO LA LINEA DEI NUMERI**

**ESEMPIO**

<b>1</b> NUMERO PRECEDENTE	<b>2</b>	<b>3</b> NUMERO SUCCESSIVO
_____ PRECEDENTE	<b>9</b>	_____ SUCCESSIVO
_____ PRECEDENTE	<b>3</b>	_____ SUCCESSIVO
_____ PRECEDENTE	<b>5</b>	_____ SUCCESSIVO
_____ PRECEDENTE	<b>8</b>	_____ SUCCESSIVO




## COMPLETA LA TABELLA




PRIMA (precedente)		DOPO (successivo)
	1	
	2	
	3	
	4	
	5	
	6	
	7	
	8	
	9	

## PRECEDENTE - SUCCESSIVO

COMPLETA LA LINEA DEI NUMERI



COMPLETA LA LINEA DEI NUMERI



## COMPLETA LE TABELLE

PRIMA (precedente)	
	1
	2
	3
	4
	5
	6
	7
	8
	9

	DOPO (successivo)
1	
2	
3	
4	
5	
6	
7	
8	
9	

## COMPLETA LE TABELLE

PRIMA (precedente)		DOPO (successivo)
	1	
	2	
	3	
	4	
	5	
	6	
	7	
	8	
	9	

PRIMA (precedente)		DOPO (successivo)
	8	
	6	
	3	
	9	
	5	
	2	
	7	
	4	



# PRECEDENTE E SUCCESSIVO

SCRIVI I NUMERI CHE VENGONO PRIMA E DOPO AL NUMERO SCRITTO CON  
L'AIUTO DELLA LINEA DEI NUMERI

..... 4 .....

..... 6 .....

..... 2 .....

..... 8 .....

..... 7 .....

..... 3 .....

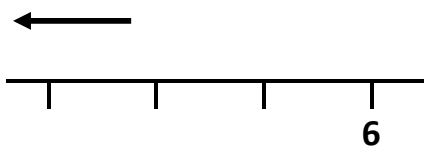
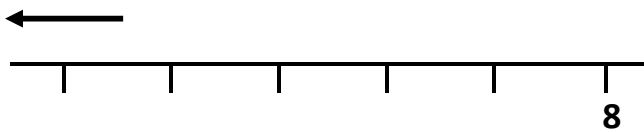
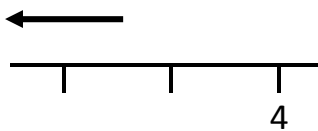
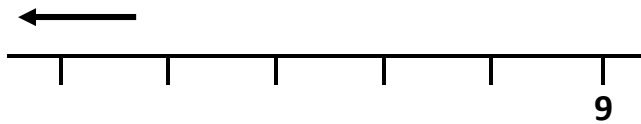
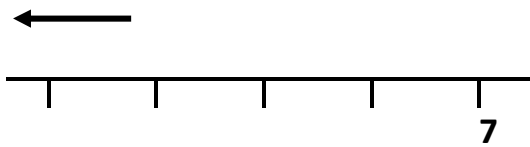
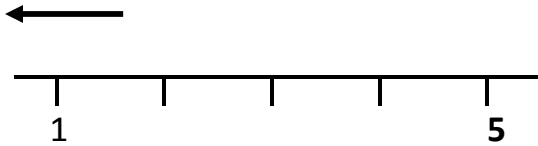
..... 5 .....

**COMPLETA INSERENDO IL NUMERO  
PRECEDENTE (QUELLO CHE VIENE PRIMA)  
E QUELLO SUCCESSIVO (QUELLO CHE VIENE DOPO)  
A QUELLO SCRITTO**

	<b>PRECEDENTE</b>	<b>NUMERO</b>	<b>SUCCESSIVO</b>
<b>ESEMPIO</b>	<b>8</b>	<b>9</b>	<b>10</b>
		<b>3</b>	
		<b>1</b>	
		<b>5</b>	
		<b>8</b>	
		<b>4</b>	
		<b>7</b>	
		<b>2</b>	
		<b>6</b>	

## CONTA ALL'INDIETRO

SCRIVI I NUMERI CHE MANCANO SULLA LINEA DEI NUMERI  
A PARTIRE DAL NUMERO INDICATO



# PRECEDENTE E SUCCESSIVO [www.percontare.it](http://www.percontare.it)

SCRIVI I NUMERI CHE VENGONO PRIMA E DOPO AL NUMERO SCRITTO CON L'AIUTO DELLA LINEA DEI NUMERI

..... 4 .....

..... 9 .....

..... 6 .....

..... 2 .....

..... 8 .....

..... 1 .....

..... 7 .....

..... 3 .....

..... 5 .....

METTI IL NUMERO CHE MANCA ...

4		6
---	--	---

6		8
---	--	---

0		2
---	--	---

3		5
---	--	---

7		9
---	--	---

8		10
---	--	----

1		3
---	--	---

5		7
---	--	---

2		4
---	--	---

Ritaglia e incolla ciascun numero al posto giusto



0	1	2	3	4	5	6	7	8	9	10
---	---	---	---	---	---	---	---	---	---	----

SCRIVI IL NUMERO CHE MANCA ...

4		6
---	--	---

6		8
---	--	---

0		2
---	--	---

3		5
---	--	---

7		9
---	--	---

8		10
---	--	----

1		3
---	--	---

5		7
---	--	---

2		4
---	--	---

INSERISCI IL NUMERO COMPRESO FRA I DUE NUMERI

3		5
---	--	---

5		7
---	--	---

0		2
---	--	---

6		8
---	--	---

8		10
---	--	----

1		3
---	--	---

7		9
---	--	---

2		4
---	--	---

**SCRIVI IL NUMERO PRECEDENTE E SUCCESSIVO A QUELLO INDICATO**

	7	
--	---	--

	5	
--	---	--

	2	
--	---	--

	4	
--	---	--

	3	
--	---	--

	9	
--	---	--

	8	
--	---	--

	6	
--	---	--